

長さとうさの単位

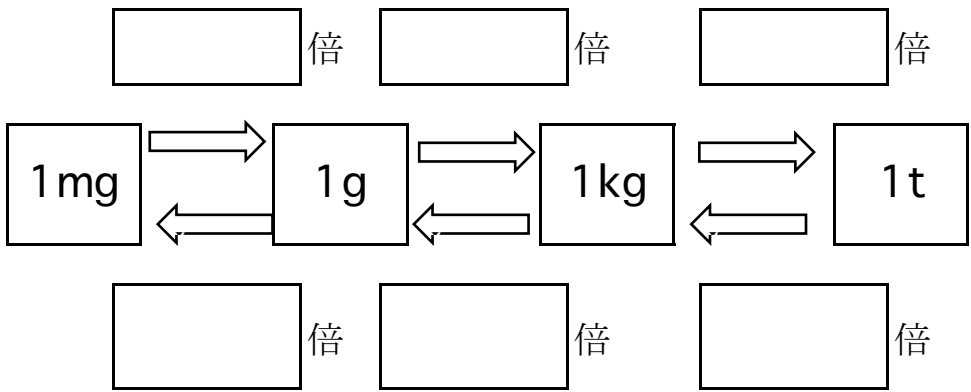
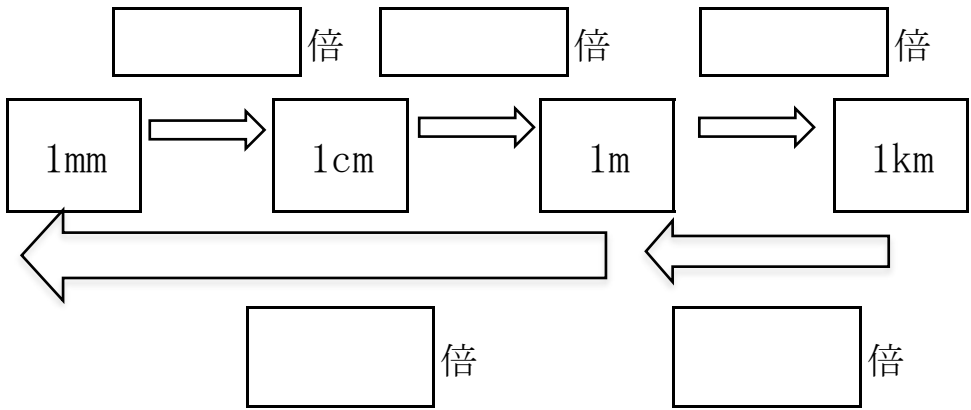
目標時間 5分

NO. 1

名前

／ 点

1 次の□にあてはまる数を書きましょう。

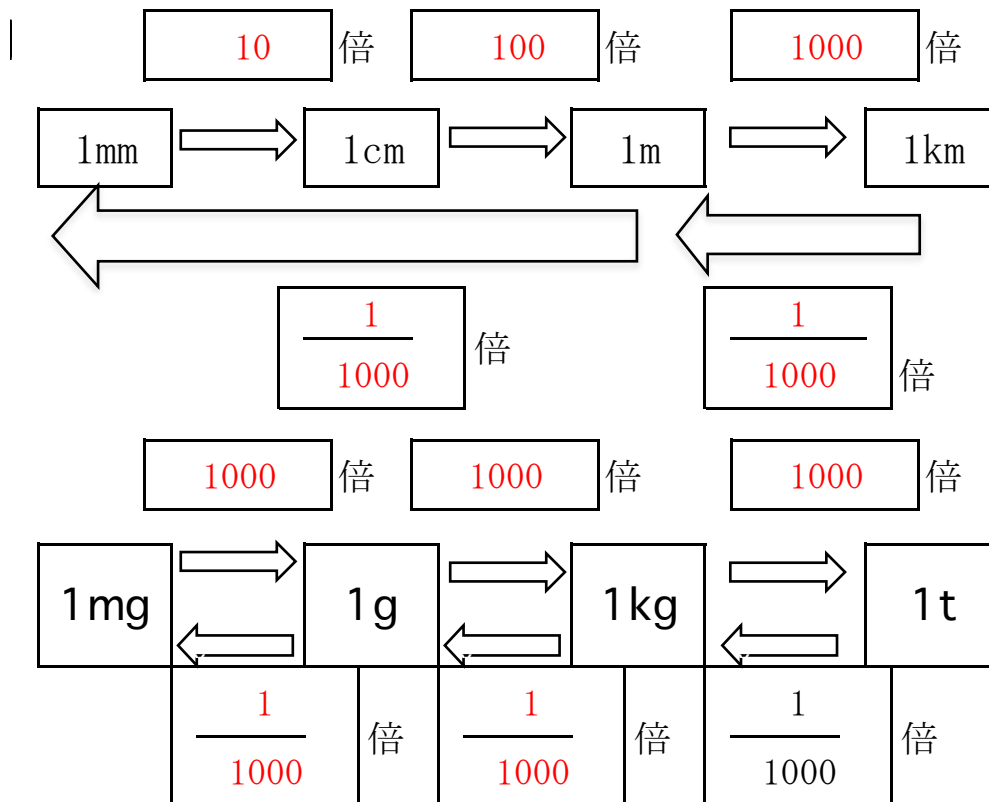


2 □にあてはまる単位を入れましょう。

- ① 富士山の高さは、3 7 7 6 です。
- ② はがきの縦の長さは、148 です。
- ③ トラックには、2 の重さの荷物が積めます。
- ④ 10円玉の重さは、4.5 です。
- ⑤ マラソンは、42.195 の距離を走ります。
- ⑥ 6年生の平均体重は、約39 です。

答え

1



2

- ① 富士山の高さは、3 7 7 6 **m** です。
- ② はがきの縦の長さは、148 **mm** です。
- ③ トラックには、2 **t** の重さの荷物が積めます。
- ④ 10円玉の重さは、4.5 **g** です。
- ⑤ マラソンは、42.195 **km** の距離を走ります。
- ⑥ 6年生の平均体重は、約39 **kg** です。