

小数の大きさ 1

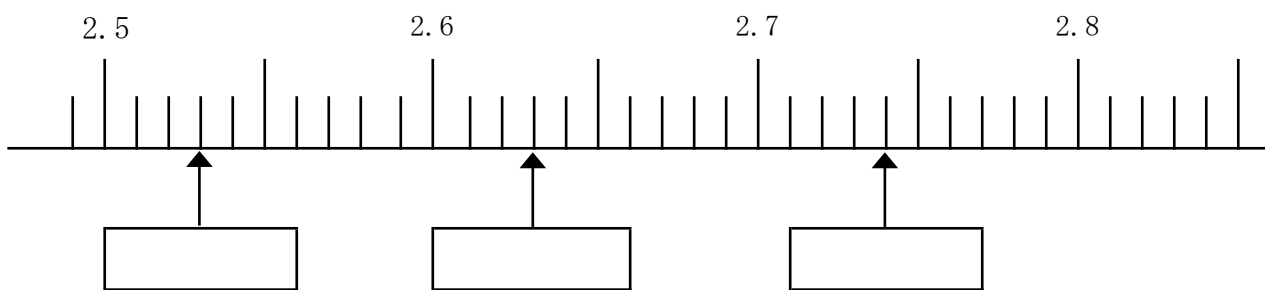
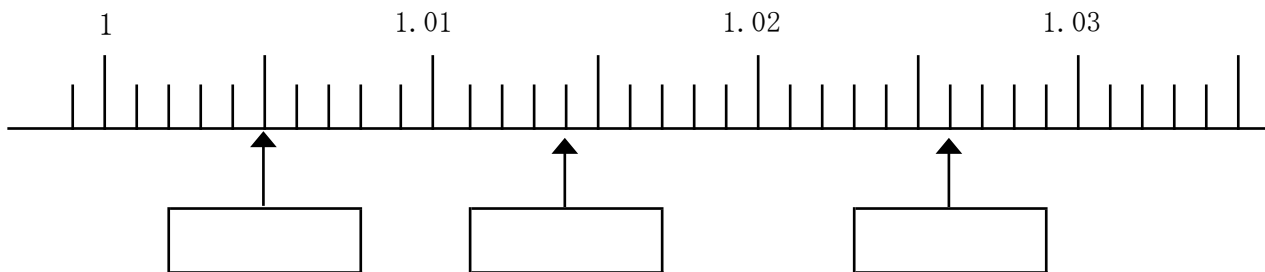
目標時間 10分

NO. 1

名前 _____

／10 点

1 □にあてはまる数を書きましょう。



2 大きい順にならべましょう。

- ① 2.36 2.71 2.524 2.004

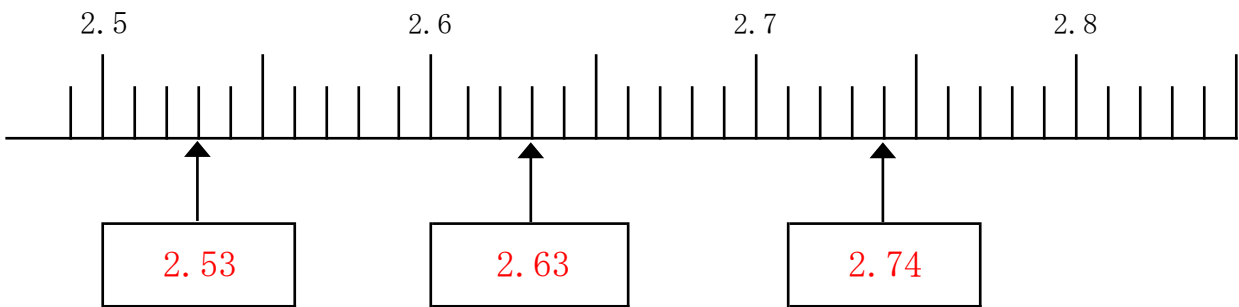
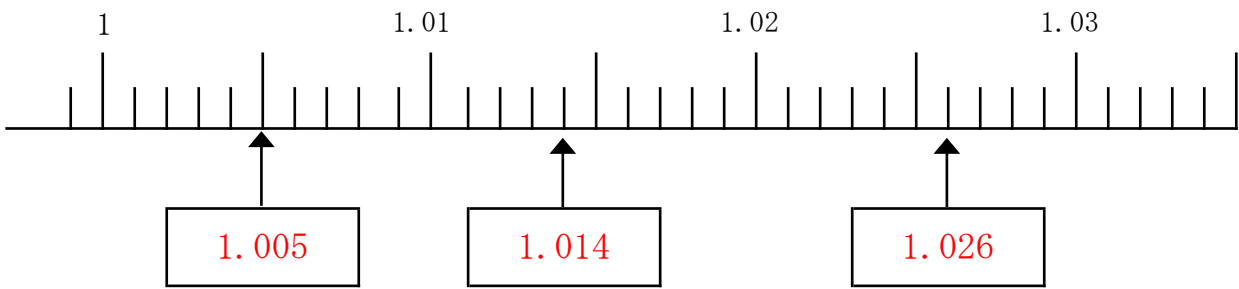
- ② 0.002 0 0.053 0.102

- ③ 2.654 3.021 5.21 4.012

- ④ 10.05 10.13 10.1 10.202

答え

1



2

① 2.71 2.524 2.36 2.004

② 0.102 0.053 0.002 0

③ 5.21 4.012 3.021 2.654

④ 10.202 10.13 10.1 10.05