

合同な図形基本

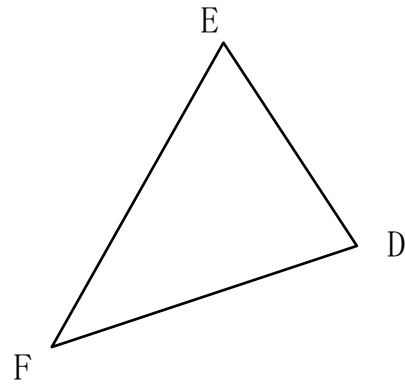
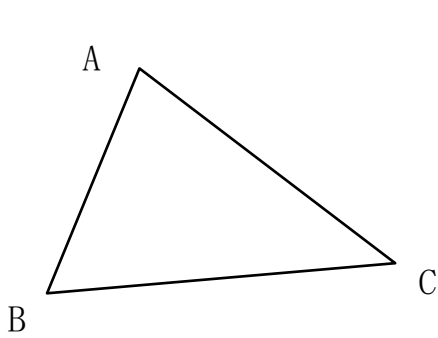
目標時間 5分

NO. 4

名前 _____

_____/_____
点

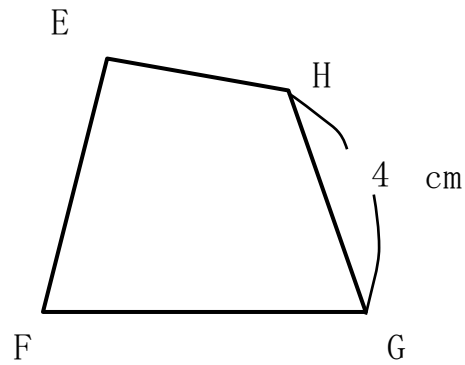
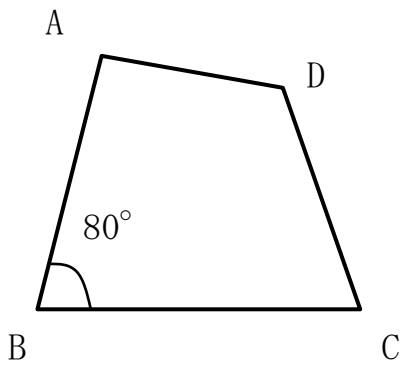
1 下の2つの三角形は合同です。これについて次の問いに答えなさい。



① 辺ABに対応する辺はどれですか。

② 角Cに対応する角はどれですか。

2 下の2つの四角形は合同です。これについて次の問いに答えなさい。



① 頂点Aに対応する頂点はどれですか。

② 辺ADに対応する辺はどれですか。

③ 辺DCの長さは何cmですか。

④ 角Fの大きさは何度ですか。

答え

1 ① 辺DE ② 角F

2 ① 頂点E

② 辺EH

③ 4 cm

⑤ 80°