

割合の文章題1

目標時間 10分

NO. 1

名前

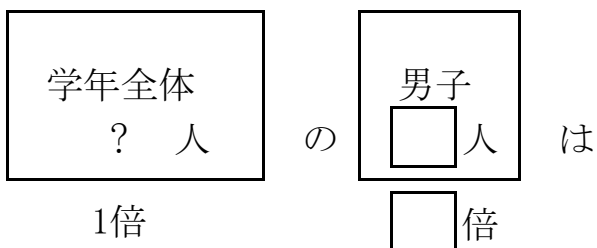
／3

◆次の問題に答えましょう。

① 定員 250 人の電車に 325 人の人が乗っています。定員の何%の人が乗っていることになりますか。

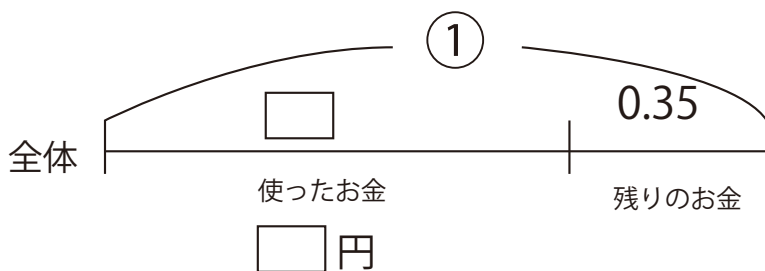
式

② ある小学校の男子の人数は、 180 人です。これは、全校児童の 45 % にあたります。全校児童は何人いますか。



式

③ 持っているお金のうち 650 円を使ったら、持っていたお金の 35 % が残りました。持っていたお金はいくらでしたか。

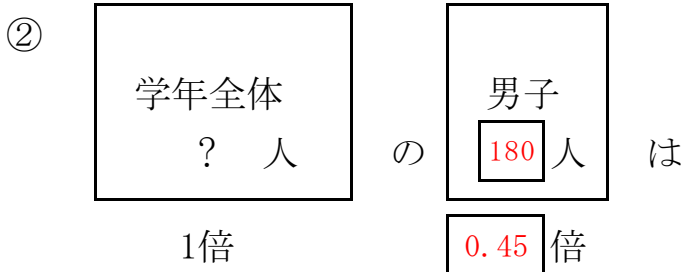


式

答え

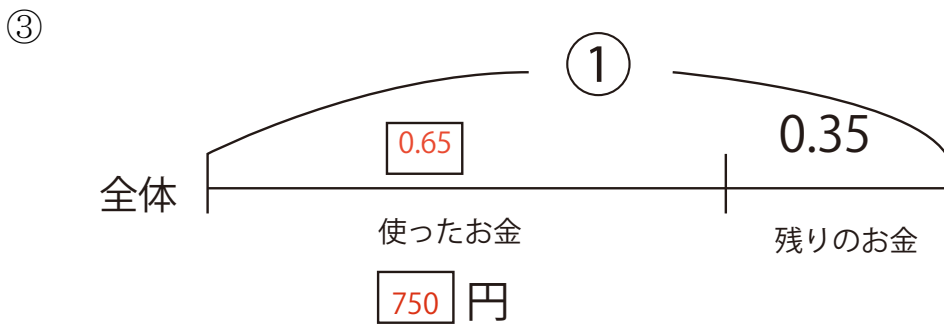
① $325 \div 250 = 1.3$

130 %



$180 \div 0.45 = 400$

400 人



$1 - 0.35 = 0.65$

$650 \div 0.65 = 1000$

1000 円