

# 倍数と公倍数1

目標時間 15分

NO. 2

名前

/ 9 点

倍数をもとめましょう。

① 2 の倍数を小さい方から5つ書きましょう。

② 4 の倍数を小さい方から5つ書きましょう。

③ 7 の倍数を小さい方から5つ書きましょう。

④ 次の数のうち 5 の倍数を○で囲みましょう。

0 , 3 , 5 , 13 , 15 , 24 , 35

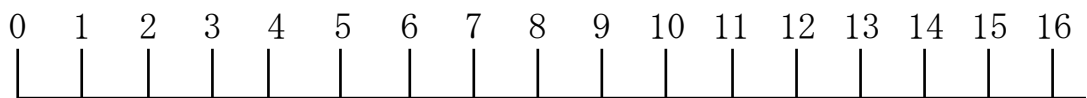
⑤ 次の数のうち 6 の倍数を○で囲みましょう。

9 , 12 , 22 , 30 , 38 , 44 , 54

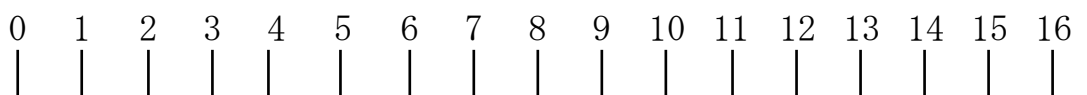
⑥ 次の数のうち 8 の倍数を○で囲みましょう。

16 , 18 , 24 , 28 , 35 , 88 , 96

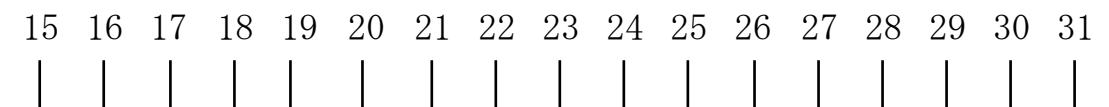
⑦ 次の数直線で, 2 の倍数を○で囲みましょう。



⑧ 次の数直線で, 7 の倍数を○で囲みましょう。



⑨ 次の数直線で, 5 の倍数を○で囲みましょう。



答え

① 2 , 4 , 6 , 8 , 10

② 4 , 8 , 12 , 16 , 20

③ 7 , 14 , 21 , 28 , 35

④ 0 , 3 , 5 , 13 , 15 , 24 , 35

⑤ 9 , 12 , 22 , 30 , 38 , 44 , 54

⑥ 16 , 18 , 24 , 28 , 35 , 88 , 96

