

倍数と公倍数1

目標時間 15分

NO. 1

名前

/ 9 点

倍数をもとめましょう。

① 3 の倍数を小さい方から 3 つ書きましょう。

② 5 の倍数を小さい方から 3 つ書きましょう。

③ 8 の倍数を小さい方から 3 つ書きましょう。

④ 次の数のうち 3 の倍数を○で囲みましょう。

0 , 1 , 3 , 13 , 18 , 24 , 35

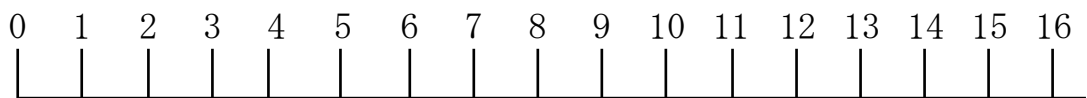
⑤ 次の数のうち 7 の倍数を○で囲みましょう。

8 , 10 , 14 , 21 , 28 , 34 , 63

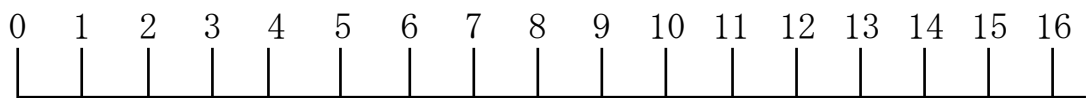
⑥ 次の数のうち 9 の倍数を○で囲みましょう。

18 , 20 , 23 , 27 , 34 , 99 , 108

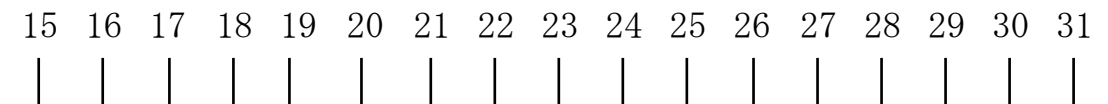
⑦ 次の数直線で, 4 の倍数を○で囲みましょう。



⑧ 次の数直線で, 5 の倍数を○で囲みましょう。



⑨ 次の数直線で, 8 の倍数を○で囲みましょう。



答え

① 3 , 6 , 9

② 5 , 10 , 15

③ 8 , 16 , 24

④ 0 , 1 , 3 , 13 , 18 , 24 , 35

⑤ 8 , 10 , 14 , 21 , 28 , 34 , 63

⑥ 18 , 20 , 23 , 27 , 34 , 99 , 108

