

垂直と平行 1


目標時間	5分
------	----

NO. 2

名前	
----	--

/3

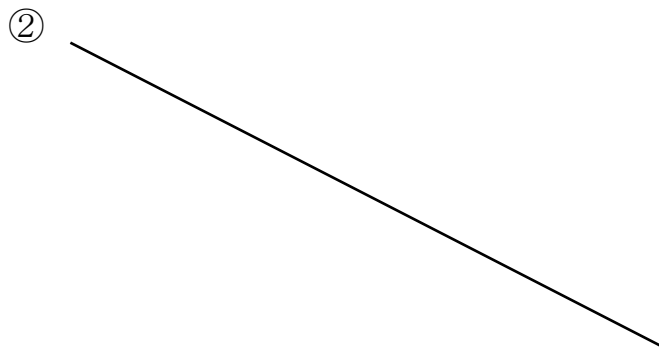
1 点あを通り，①の直線に垂直な直線をひきましょう。



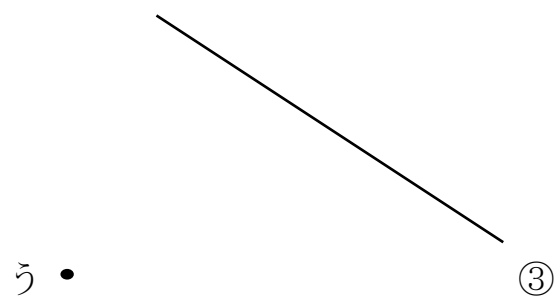
• あ

2 点いを通り，②の直線に垂直な直線をひきましょう。

• い



3 点うを通り，③の直線に平行な直線をひきましょう。



答え

★うすい紙にプリントして、重ねあわせてみましょう。