

垂直と平行 1

目標時間	5分
------	----


NO. 1

名前	
----	--

/3

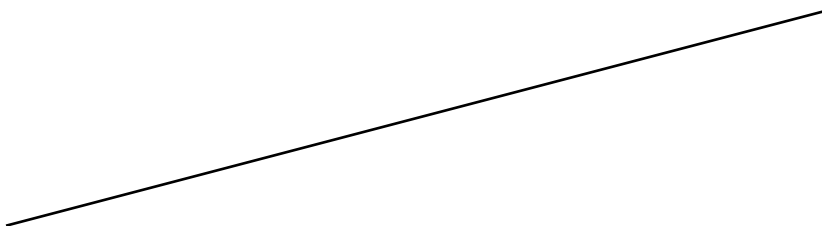
1 点あを通り，①の直線に垂直な直線をひきましょう。

• あ



2 点いを通り，②の直線に垂直な直線をひきましょう。


②



• い

3 点うを通り，③の直線に平行な直線をひきましょう。

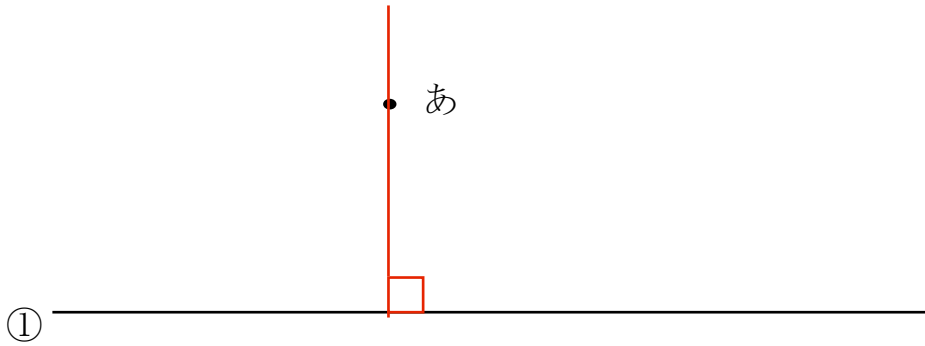
う



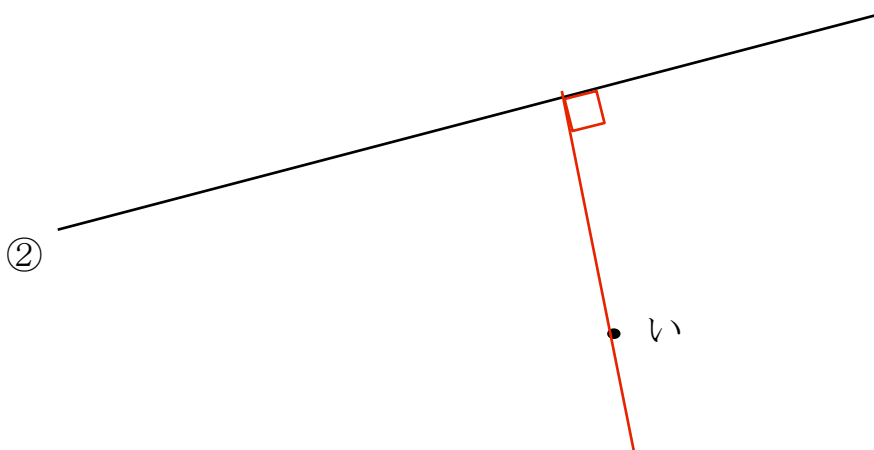
答え

★うすい紙にプリントして、重ねあわせてみましょう。

1



2



3

