

直方体と立方体 2

目標時間	7分
------	----

名前

/5

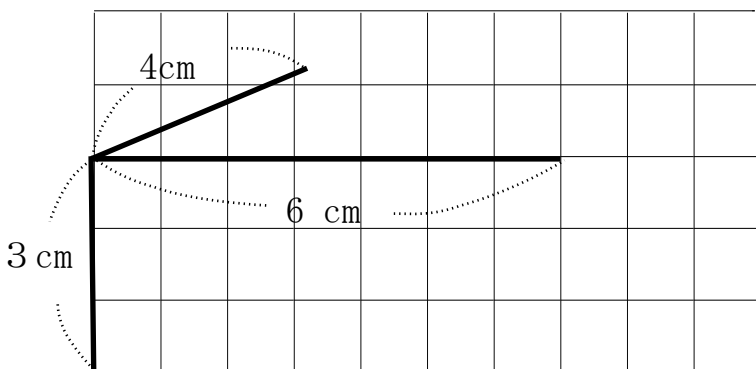
1 □にあてはまる言葉を書きましょう。

① 立体の全体の形がわかるように書いた図を
 といいます。

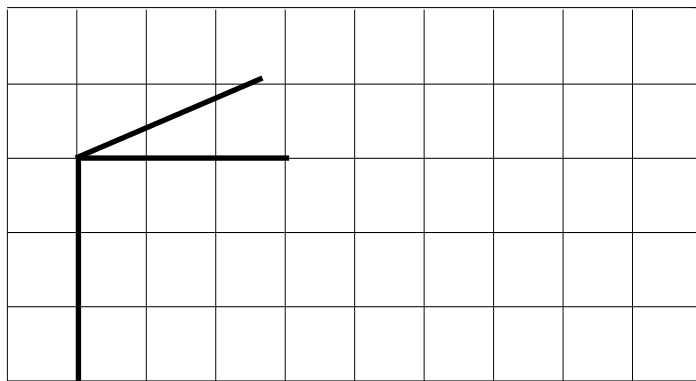
② 見取り図では、見えない辺は でかきます。

2 見取り図を完成させましょう。


① たて 4 cm , よこ 6 cm , 高さ 3 cm の直方体



② 1辺が 3 cm の立方体



③ たて 3 cm , よこ 5 cm , 高さ 2 cm の直方体



答え

1 ① 見取り図 ② 点線

