

# がい数のはんい 1

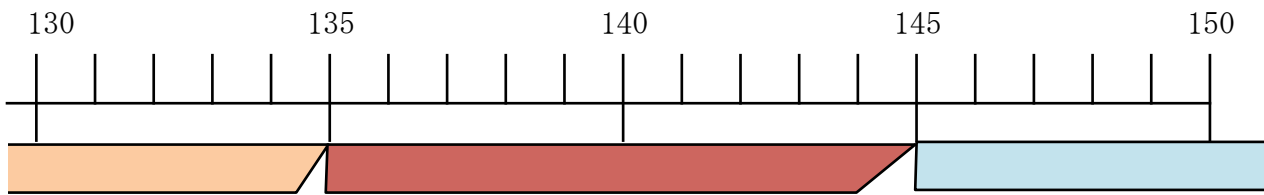
目標時間 10分

NO. 1

名前

1 健太さんの身長は 142 cm です。

四捨五入して十の位までのがい数にしたとき 140 になる整数のうちいちばん大きい数といちばん小さい数は何ですか。下の ( ) にあてはまる数を書きましょう。



( ) になるはんい ( ) になるはんい ( ) になるはんい

140 になる数は ( ) 以上 ( ) 未満

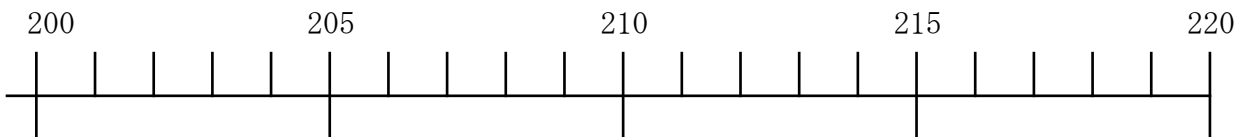
140 になる整数は ( ) 以上 ( ) 以下

いちばん大きい整数は ( )

いちばん小さい整数は ( )

2 四捨五入して、十の位までのがい数にしたとき、 210 になる整数のうち、いちばん小さい数といちばん大きい数は何ですか。

① 210 になる数 のはんいを太線で表しましょう。



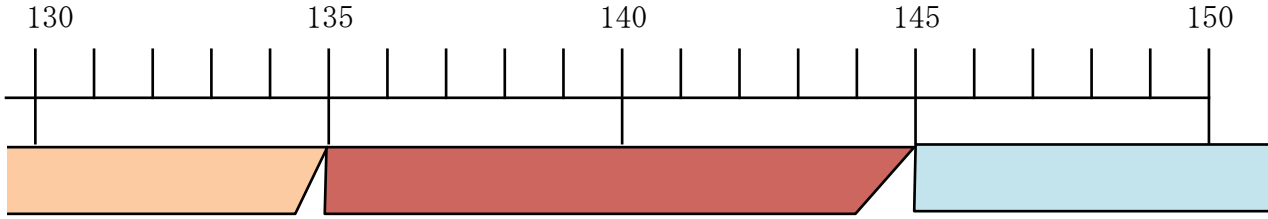
② 210 になる整数の範囲は ( ) から ( ) まで

③ いちばん大きい整数は ( )

いちばん小さい整数は ( )

答え

1



( 130 ) になるはんい

( 140 ) になるはんい

( 150 ) になるはんい

140 になる数は ( 135 ) 以上 ( 145 ) 未満

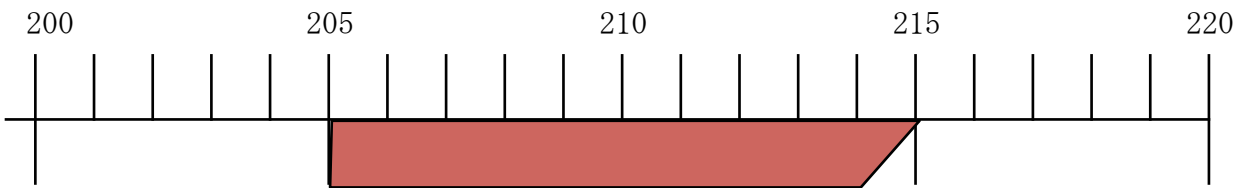
140 になる整数は ( 135 ) 以上 ( 144 ) 以下

いちばん大きい整数は ( 144 )

いちばん小さい整数は ( 135 )

2

① 210 になる数 のはんいを太線で表しましょう。



② 210 になる整数の範囲は ( 205 ) から ( 214 ) まで

③ いちばん大きい整数は ( 214 )

いちばん小さい整数は ( 205 )